

# BALADES LUDIQUES

POUR PETITS ET GRANDS



## Saint-Germain-l'Herm



Visiter,  
se balader,  
s'amuser!



**La Région**  
Auvergne-Rhône-Alpes



Financée par la région  
Auvergne Rhône Alpes,  
cette plaquette vous est  
offerte par la Communauté  
de communes Ambert  
Livradois Forez.

Moyen



4,8 km

2h00

# Saint-Germain-l'Herm

Départ: Église

GPS: 45.458604N / 3.542377E

D'autres balades ludiques sont à découvrir sur la communauté de communes Ambert Livradois Forez, n'hésitez pas à vous renseigner sur les sites :

[www.ambertlivradoisforez.fr](http://www.ambertlivradoisforez.fr) ou sur [www.randoland.fr](http://www.randoland.fr).

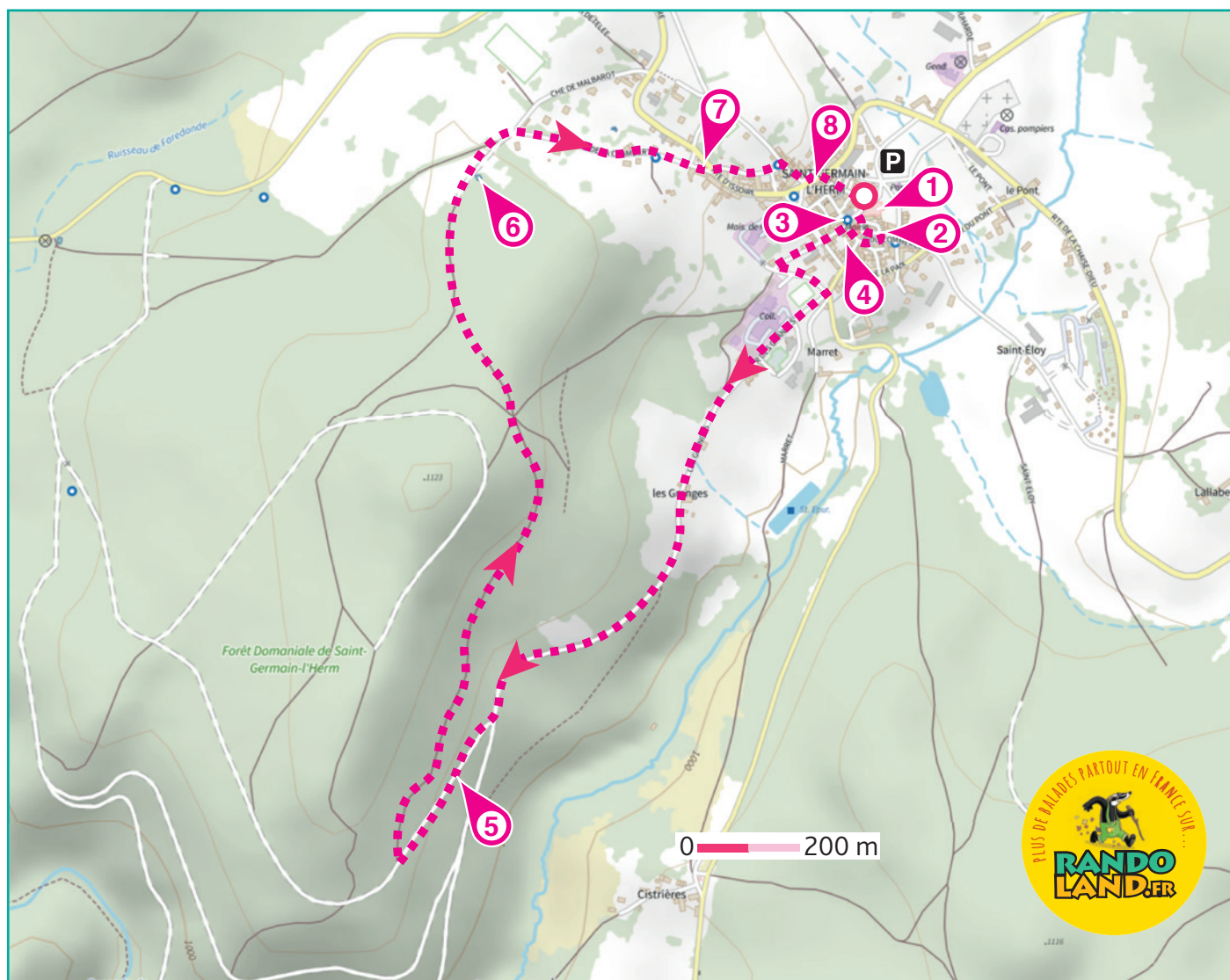
## Carnet de route

*Soyez vigilants avec vos enfants notamment sur les zones non piétonnes. Le parcours s'effectue sous votre entière responsabilité. La société Randoland et la communauté de communes Ambert Livradois Forez déclinent toute responsabilité en cas d'accident.*

Commencer par observer l'église **1**.  
Dos à l'entrée de l'église, prendre à gauche dans la rue de la Halle au Blé. Après le virage, chercher et observer la façade avec les têtes sculptées **2**.  
Face à cette dernière, continuer sur la droite et tourner ensuite à droite dans la rue. Aller jusqu'à la fontaine de la place de l'Hôtel de Ville **3**.  
À l'angle de la rue Notre Dame, chercher et observer la vierge en bois polychrome **4**.  
S'engager dans la rue Notre Dame. Traverser et continuer tout droit dans le chemin des Granges. Tourner à gauche, passer devant l'école et prendre à droite

pour passer entre la médiathèque et le collège Gaspard des Montagnes. Continuer jusqu'au hameau des Granges puis toujours tout droit sur le chemin. Arrivés à la patte d'oie, prendre le chemin qui monte légèrement sur la droite **5**.  
Juste avant le virage, prendre le chemin qui part complètement sur la droite. Au bout du chemin, prendre de nouveau à droite. Au croisement suivant, poursuivre sur la gauche. Plus loin, observer le captage d'eau sur la droite **6**.  
Continuer jusqu'à la route et prendre à droite dans le chemin de la Chamberte.

Au croisement avec la route, remonter la rue sur la gauche pour observer la sculpture derrière le thuya **7**.  
Ne pas hésiter à profiter d'une pause sympathique dans le jardin public juste en face!  
Traverser prudemment pour s'engager, en face de la pierre sculptée, dans la rue des Jardins. Au bout, poursuivre à droite puis observer au croisement le monument aux morts **8**.  
Descendre dans la rue principale puis à droite rue du Sous-Caillox pour retourner à l'église. Fin de la balade.





# Saint-Germain-l'Herm

L'Inspecteur Rando (en bas à gauche) part nettoyer la forêt. Mais par où va-t-il passer ?

Pour découvrir le chemin emprunté, réponds aux questions de la page suivante. Chaque réponse t'indiquera l'étape suivante de l'Inspecteur Rando dans le labyrinthe. Attention, l'Inspecteur Rando ne doit jamais revenir sur ses pas et prend le chemin le plus court ! Chaque fois qu'il trouvera une bouteille sur sa route, colore, dans l'ordre, une bouteille de la frise. En fin de parcours, note dans la case réponse le nombre de bouteilles ramassées.



© Randoland 2020. Illustrations: Armelle Drouin - AdobeStock - Freepik.com - Pexels

Tu peux te rendre à l'Office de Tourisme ou sur le site [www.randoland.fr](http://www.randoland.fr) pour vérifier ta réponse (code énigme 6335301P).

L'inspecteur Rando

Ta réponse






### 1 L'église

Sur la tour ronde côté rue, il y a une meurtrière au ras du sol. Quel croquis lui correspond ?

Tu vas découvrir la première étape de l'inspecteur Rando.




### 2 La maison aux trois têtes

Quelle tête est présente sur cette façade ?



### 3 La fontaine

Cherche l'année gravée sur la fontaine. Quel nuage de chiffres lui correspond ?



### 4 La vierge en bois polychrome

Combien cette sculpture te montre-t-elle de mains ?



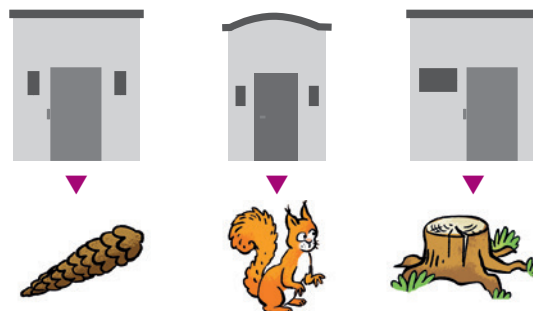
### 5 En forêt

Mon 1<sup>er</sup> est un lieu où pousse le blé, mon 2<sup>e</sup> est un oiseau voleur, mon 3<sup>e</sup> est la dernière syllabe de « compagnon », mon tout se cueille par ici. De quoi s'agit-il ?



### 6 Le captage d'eau

Quel croquis correspond à l'entrée de ce réservoir ?




#### LE SAIS-TU ?

La vie est apparue pour la première fois dans l'eau. Puis d'autres êtres vivants ont conquis la terre ferme mais toujours à côté d'un point d'eau. Il n'y a pas de vie sans eau !

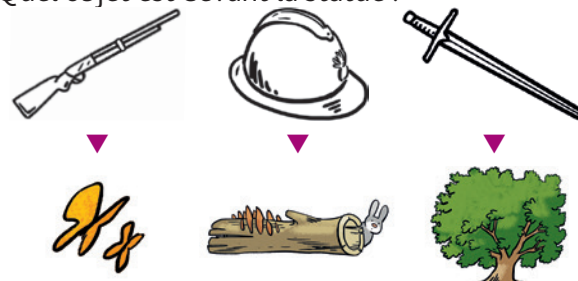
### 7 La sculpture

Quelle moustache ressemble le plus à celle de l'ermite saint Germain ?



### 8 Le monument aux morts

Quel objet est devant la statue ?







# Saint-Germain-l'Herm

## ÉNIGME

**M**algré le déboisement que connaissent beaucoup de forêts en France, celle de Saint-Germain-l'Herm est particulièrement peuplée de sapins. Pourquoi y trouve-t-on cette essence ? En faisant quelques recherches, l'inspecteur Rando a découvert que le bois du sapin était très apprécié par la Marine pour fabriquer les mâts des vaisseaux. Elle s'approvisionnait donc dans les forêts qui en possédaient en grand nombre, comme ici dans le Livradois. Mais pourquoi utiliser du sapin pour les parties hautes des bateaux ? Dans ces parties, élasticité, résistance, souplesse et légèreté sont recherchées et le sapin possède toutes ces qualités, d'où son utilisation pour les mâts.

L'inspecteur Rando a appris quelque chose, comme toi probablement. Mais sais-tu par contre de quelle « famille » d'arbres fait partie le sapin ? L'inspecteur Rando te laisse mener ton enquête en solo pour le découvrir.

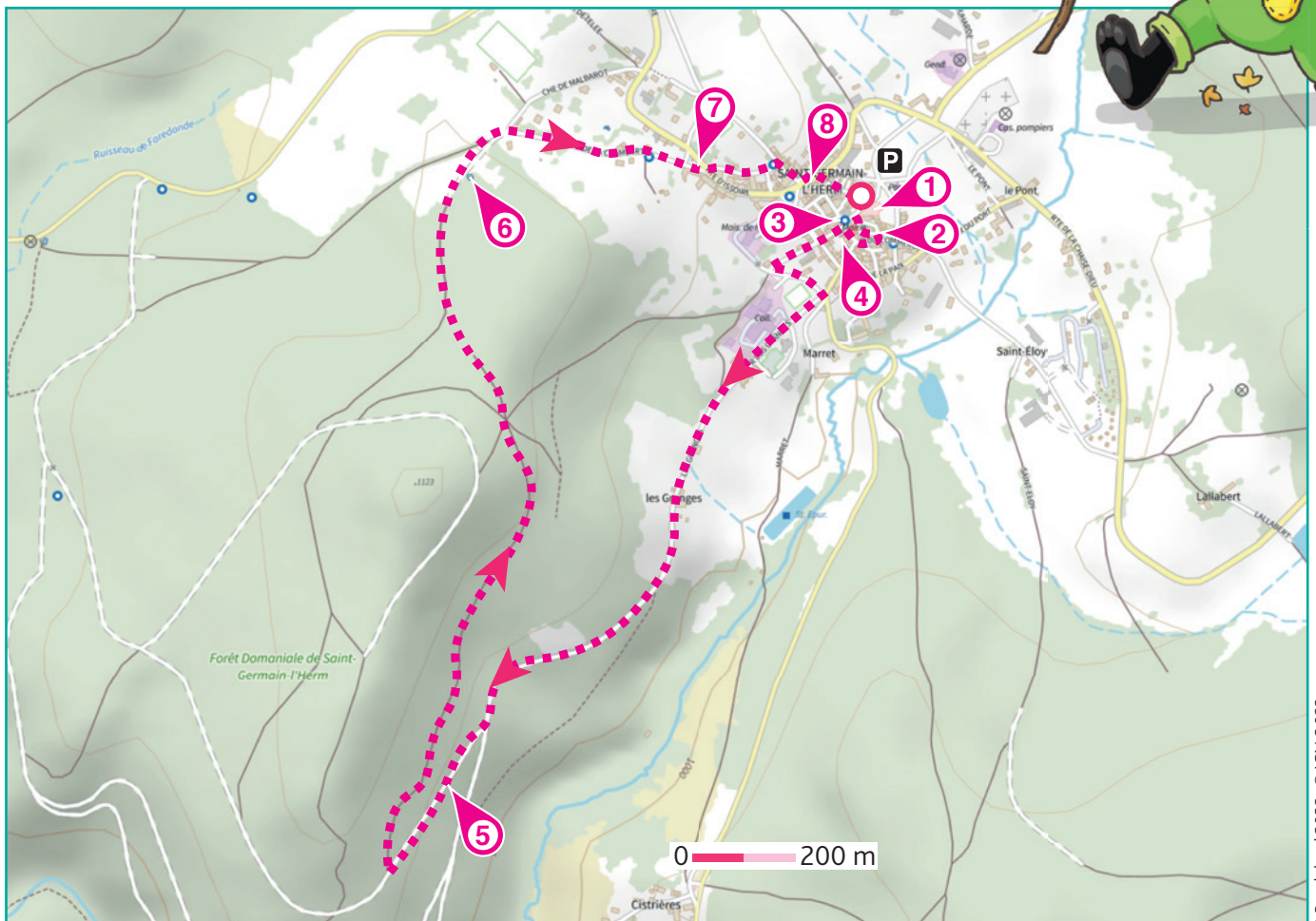


© kelly

À chaque point indice, lis bien les indications de la page suivante et reporte tes réponses sur la grille de bas de page.

Tu disposes du plan ci-dessous. À l'emplacement des pastilles numérotées, lis les indications qui te permettront de résoudre l'énigme principale.

À ton retour à la maison, avec l'aide de tes parents, rends-toi vite sur le site [randoland.fr](http://randoland.fr) pour vérifier ta réponse.



© Randoland 2022- © IGN 2 022



Pour toutes les activités de cette fiche, reporte dans la grille de bas de page les réponses trouvées en face des nombres correspondants.

### 1 L'église

Cherche, à mi hauteur sur le mur de l'église qui longe la rue, une pierre sculptée. Quelle photo lui correspond ?



AMANDINE MATTHIAS TIMOTHÉE

Note, dans la grille, le prénom inscrit sous la bonne photo.

### 2 La maison aux trois têtes

Repère l'année inscrite au-dessus de la porte ! Quel est le chiffre des unités ?

Inscris ta réponse, en lettres, dans la grille.

Ex. : 1941 → 1 = UN

### 3 La fontaine

Observe les personnages de cette fontaine ! Quel indice sur les visages nous permet de savoir s'il s'agit d'hommes ou de femmes ?

Note dans la grille le nom de l'élément qui t'a aidé(e) à connaître le sexe de ces personnages.

### 4 La vierge en bois polychrome

De retour de balade des amis discutent de cette statue. Qui a raison ?

AYLINE : Elle est en train de prier.

NATHAN : Bah non, elle se tient la tête !

ÉLIANA : Vous vous trompez : elle lève les mains devant elle.

Reporte le prénom de celui qui dit vrai dans la grille.

### 5 En forêt

Observe les arbres autour de toi ! Quelle feuille ci-dessous domine dans ce coin de forêt ?



CHÊNE SAPIN ERABLE

Écris, dans la grille, le nom de l'arbre auquel appartient cette feuille.

### 6 Le captage d'eau

De quelle couleur sont les murs de ce réservoir ? Choisis ci-dessous l'expression dans laquelle tu peux la noter !

MARGAUX : Le ... clair du ciel

RAPHAËL : Avoir la main ... (être bon jardinier)

LUCILLE : Être ... comme une tomate

Note le prénom de l'enfant qui a raison dans la grille.

#### LE SAIS-TU ?

L'eau figure parmi les ressources les plus précieuses de la planète. Pour l'économiser tu peux par exemple prendre une douche à la place d'un bain !

### 7 La sculpture

Quelle est la troisième lettre du prénom de cette sculpture ?

Reporte la lettre découverte dans la grille.

### 8 Le monument aux morts

Ce Jean a son nom de famille gravé sous l'aile gauche de la statue car c'est le sculpteur.

Range les lettres de son nom dans l'ordre alphabétique.

Ex. : RANDO = ADNOR

Note ta nouvelle réponse dans la grille.

#### Grille réponse

Circuit n°6335301M

1 >									
2 >									
3 >									
4 >									
5 >									
6 >									
7 >									
8 >									



Remets en ordre les caractères des cases colorées pour trouver le nom donné à la « famille » d'arbres dont fait partie le sapin.

Ta réponse :




## ÉNIGME

Même s'il est souvent tentant de se confectionner un joli bouquet grâce aux plantes dont la forêt regorge, il faut se méfier de certaines d'entre elles car elles sont particulièrement dangereuses. C'est le cas de l'une de celles que tu peux voir en photo ci-dessous.

Mal utilisée, elle peut être toxique et provoquer des symptômes très désagréables comme des vomissements, diarrhées et autres. Par contre, utilisée sous surveillance médicale, on lui reconnaît des vertus comme celle d'aider à la cicatrisation des plaies.


L'inspecteur Rando croit avoir aperçu cette plante lors de sa balade dans la forêt domaniale de Saint-Germain-l'Herm et s'est bien gardé de la toucher. À toi de jouer maintenant pour découvrir le nom de cette plante, à la fois poison et remède !

© kelly



Tu disposes du plan ci-dessous. À l'emplacement des pastilles numérotées, lis les indications qui te permettront de résoudre l'énigme principale.

À la fin de ta balade, rends-toi sur le site [randoland.fr](http://randoland.fr) pour vérifier ta réponse.



## LISTE DES PLANTES



**1**  
**ARNICA**  
famille : astéracées  
hauteur : 20 à 40 cm



**2**  
**COQUELICOT**  
famille : papavéracées  
hauteur : 15 à 60 cm



**3**  
**DIGITALE POURPRE**  
famille : scrofulariacées  
hauteur : 30 à 200 cm



**4**  
**FOUGÈRE MÂLE**  
famille : dryoptéridacées  
hauteur : 30 à 120 cm




**5**  
**GRANDE CIGUË**  
famille : apiacées  
hauteur : 100 à 250 cm



**6**  
**HELLÉBORE NOIR**  
famille : renonculacées  
hauteur : 30 à 45 cm



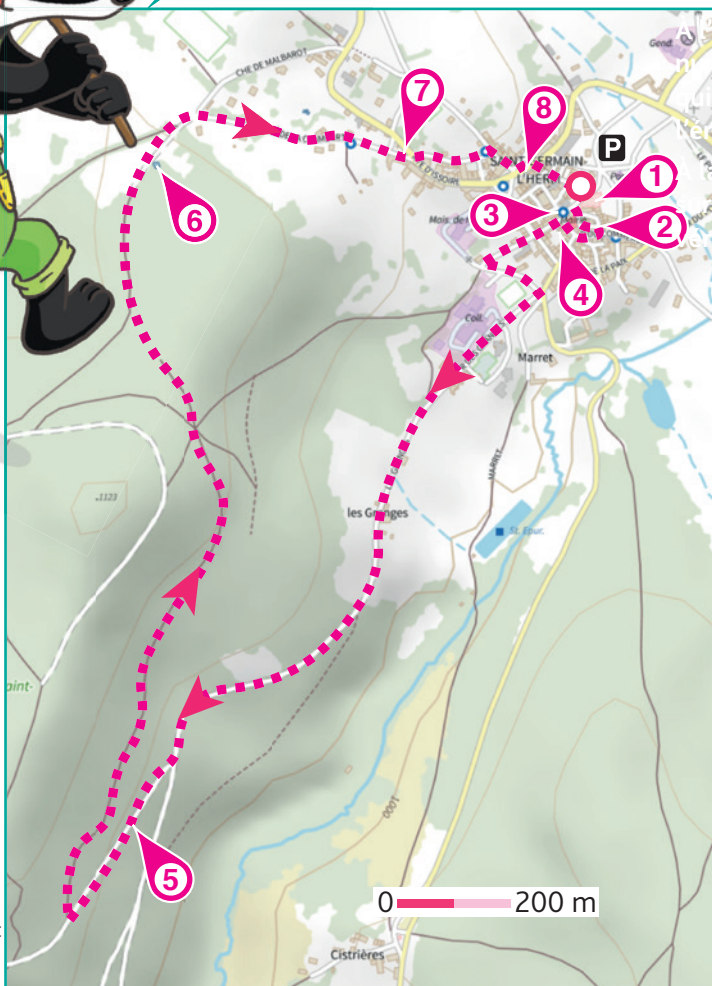
**7**  
**ORTIE BLANCHE**  
famille : lamiacées  
hauteur : 30 à 50 cm



**8**  
**PENSÉE SAUVAGE**  
famille : violacées  
hauteur : 10 à 30 cm



**9**  
**PIED DE CHAT**  
famille : astéracées  
hauteur : 5 cm à 40 cm





Lors du passage devant chacun des indices lis attentivement les indications fournies. Elles te permettront de résoudre l'énigme posée au verso de cette page.

### 1 L'église

Cherche un indice à proximité de l'entrée de l'église pour découvrir qui dit vrai !

**PACO** : Cette église dépendait de la communauté des Ursulines d'Ambert (« Embèrt » en occitan).

**SACHA** : Tu te trompes, elle dépendait de la congrégation bénédictine de la Chaise Dieu (« Casa Dei » en latin, maison de dieu).

**BLANCHE** : Faux ! Elle est liée au culte de Saint Julien et dépendait de Brioude (du celtique gaulois « Briuati »).

Supprime de la liste la plante dont le nom rime avec le prénom de celui qui a raison !

### 2 La maison aux trois têtes

Une année est gravée au-dessus de la porte. Additionne le chiffre des dizaines à celui des unités !

Ex. :  $1945 = 4 + 5 = 9$

Le résultat découvert t'indique la hauteur minimale d'une des plantes. Ce n'est pas la bonne, raye-la de la liste !

### 3 La fontaine

Complète le texte à trous ci-dessous pour cette fontaine avec les lettres suivantes :

A A C D E E E F H M N O O Q S R R T T U U

On compte \_ \_ \_ \_ \_ visages sculptés sur le pilier de cette fontaine. Un élément ne trompe pas quant à leur sexe (féminin ou masculin) car ces visages portent tous une \_ \_ \_ \_ \_ .

Le bassin est de forme \_ \_ \_ \_ \_ .

Tu peux ôter de la liste la plante dont le nom commence par la lettre restante.

### 4 La vierge en bois polychrome

De retour de balade des amis discute de la statue ! Qui a raison ?

**FATOUmata-BINTOU** : Elle est en train de prier.

**ABDOURRAHMANE** : Tu te trompes, elle tient sa tête dans ses mains.

**ANDREW** : Non ! Elle lève ses mains devant elle.

Élimine la plante qui compte autant de lettres dans son nom que le prénom de celui qui dit vrai !

### 5 En forêt

L'arbre visible en grande quantité dans cette forêt est le SAPIN. Remplace chaque lettre de ce mot par sa position dans l'alphabet.

Ex. : A → 1 ; B → 2 ; C → 3 ; etc.

Additionne entre eux tous les nombres.

Ex. : RANDO =  $18 + 1 + 14 + 4 + 15 = 52$

Tu peux supprimer de la liste la plante dont la hauteur maximale est proche de ton résultat !

### 6 Le captage d'eau

De quelle couleur sont les murs de ce réservoir ?

Raye de la liste la plante avec une pastille numérotée de la même couleur !

#### LE SAIS-TU ?

L'eau figure parmi les ressources les plus précieuses de la planète. Quand un robinet est ouvert, il s'en écoule en moyenne 12 litres d'eau par minute.



### 7 La sculpture

Dans quelle roche est sculptée cette statue ?

marbre

granite

calcaire



4

6

8

La plante dont la pastille numérotée correspond au chiffre inscrit sous la roche utilisée pour faire cette statue est à barrer de la liste.

### 8 Le monument aux morts

Cherche sur le monument aux morts l'homme mort en 1916, portant le nom Nigon. Quel est son prénom ?

La famille d'une des plantes possède toutes les lettres du prénom découvert. Ce n'est pas celle recherchée, raye-la !

Circuit n° 6335301G

Tu devrais maintenant connaître le nom de cette plante, à la fois poison et remède.

Ta réponse: .....

Tu peux vérifier ta réponse à l'Office de Tourisme ou sur le site internet [Randoland.fr](http://Randoland.fr)